

1 Ordena de menor a mayor y escribe cómo se leen.




568




507



564



546



570



586

2 Colorea los gazapos siguiendo el código.

La cifra 4 en las centenas → verdes

La cifra 4 en las decenas → marrones

La cifra 4 en las unidades → grises



1 Colorea según el valor que tenga la cifra 7: 7 U: rojo 70 U: verde 700 U: azul

doscientos setenta y cinco

setecientos sesenta y dos

quinientos treinta y siete

ciento setenta y ocho

$700 + 50 + 4$

$300 + 70 + 9$

$700 + 10 + 6$

$600 + 80 + 7$

5 C, 4 D y 7 U

7 C, 2 D y 3 U

7 C, 8 D y 4 U

4 C y 7 D

2 Escribe los números del 689 al 712.

689


<input type="text"/>	<input type="text"/>	<input type="text"/>	<input type="text"/>	<input type="text"/>	<input type="text"/>	<input type="text"/>	<input type="text"/>
<input type="text"/>	<input type="text"/>	<input type="text"/>	<input type="text"/>	<input type="text"/>	<input type="text"/>	<input type="text"/>	<input type="text"/>
<input type="text"/>	<input type="text"/>	<input type="text"/>	<input type="text"/>	<input type="text"/>	<input type="text"/>	<input type="text"/>	<input type="text"/>

• Rodea el número 700 + 7

• Subraya el anterior a 700

• Tacha el número posterior a 700 + 10

3 Clasifica los números siguientes:



N.º pares

<input type="text"/>
<input type="text"/>
<input type="text"/>
<input type="text"/>
<input type="text"/>
<input type="text"/>

N.º impares

<input type="text"/>
<input type="text"/>
<input type="text"/>
<input type="text"/>
<input type="text"/>
<input type="text"/>

4 Escribe en forma de suma y de multiplicación.



$$\square + \square + \square + \square = \square$$

$$\square \times \square = \square$$



$$\square + \square + \square = \square$$

$$\square \times \square = \square$$

5 Practica y resuelve.

$$\begin{array}{r} 83 \\ \times 2 \\ \hline \end{array}$$

$$\begin{array}{r} 23 \\ \times 3 \\ \hline \end{array}$$


$$\begin{array}{r} 71 \\ \times 6 \\ \hline \end{array}$$

$$\begin{array}{r} 61 \\ \times 9 \\ \hline \end{array}$$


$$\begin{array}{r} 11 \\ \times 8 \\ \hline \end{array}$$

Coloca los números resuelve.

$$226 + 434$$



$$952 - 127$$



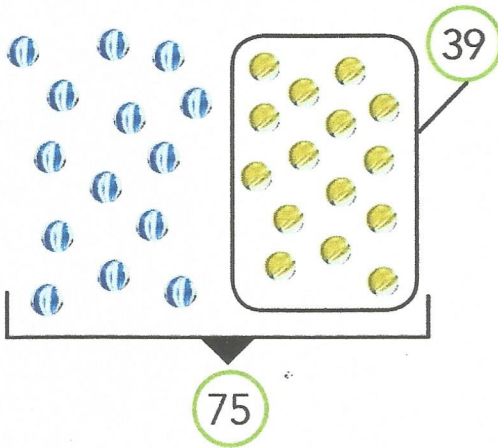
4

Nombre y apellidos:

Fecha:

Matemáticas 2.º

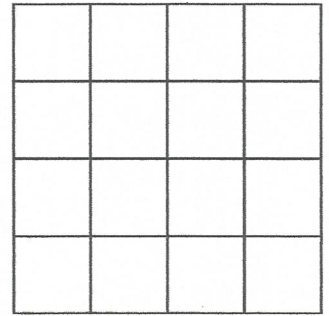
1 Carla tiene 75 canicas. Si 39 son amarillas, ¿cuántas canicas no son amarillas?




Tiene canicas.

Son amarillas .

► No son amarillas .



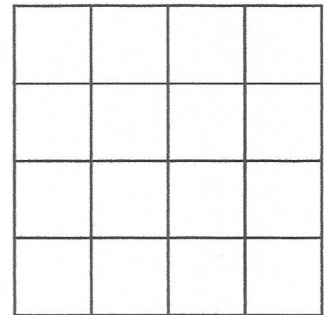
2 En una tienda de deporte reciben 152 tablas de surf. Si 43 son rosas, ¿cuántas no son rosas?




Reciben tablas.

Son rosas .

► No son rosas .



3 En una caja hay 204 piezas de construcción. Si 131 son verdes, ¿cuántas piezas no son verdes?



Hay piezas.

Son verdes .

► No son verdes .

