

3

Nom i cognoms:

Data:

Ciències socials 2n

Fitxa
1**1** Relaciona.

L'aigua és incolora perquè...



L'aigua és inodora perquè...

L'aigua és insípida perquè...



no fa olor



no té sabor



no té color

2 Escriu en quin estat es troba l'aigua.

Com ha passat d'un estat a l'altre?

Pinta fred = blau o calor = roig, com corresponga.



Fred

Calor



Fred


Calor

**3** Escriu en la columna que corresponga.


mar – glacera – núvol – oceà – riu – llacuna

Aigua dolça	Aigua salada


4 Observa, llig i ordena les etapes del cicle de l'aigua de l'1 al 4.




L'aigua torna a la mar.



Es formen els núvols.



L'aigua dels núvols cau en forma de pluja, neu o granís.





La calor del Sol evapora l'aigua de la mar.

5 Observa les imatges d'aquests rius i encercla seguint el codi.

Curs alt = verd

Curs mitjà = roig

Curs baix = blau



6 Escriu per a què podem usar l'aigua no potable.

4

Nom i cognoms:


Data:

Ciències socials 2n

Fitxa

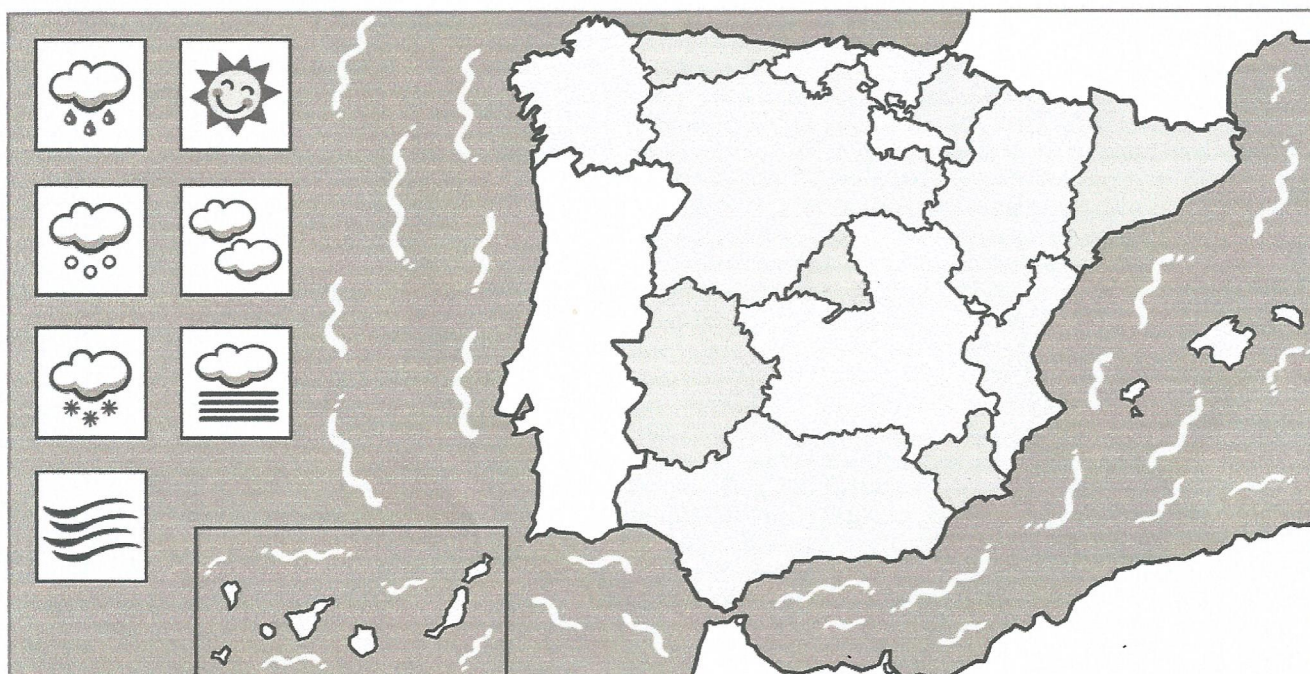
1

- 1 Fes un dibuix conduint un vehicle que no contamine l'aire i completa la frase.



No contamine circulant en .

- 2 Dibuixa en el mapa següent un símbol de neu, dos de pluja, un de vent i tres de sol.



3 Encercla els elements humans del paisatge següent.



4 Encercla els contenidors amb el color que correspon.

blau = paper

marró = menjar

groc = envasos

verd = vidre

