

1

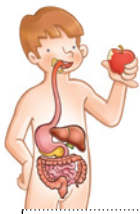
Nom i cognoms: \_\_\_\_\_

Data: \_\_\_\_\_

Ciències de la naturalesa 2n

Fitxa  
2

1 Observa. Després, encercla com s'indica i escriu el nom de cada aparell.



cor



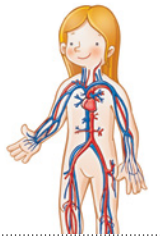
renyons



estómac

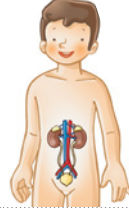
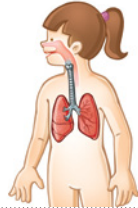


pulmons



\_\_\_\_\_

\_\_\_\_\_



\_\_\_\_\_

\_\_\_\_\_

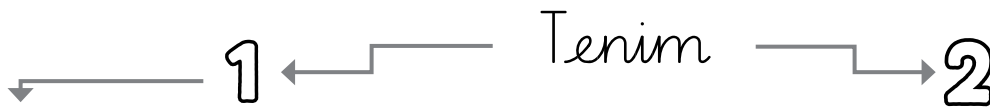
\_\_\_\_\_

\_\_\_\_\_

\_\_\_\_\_

\_\_\_\_\_

2 Completa amb quatre exemples de parts del cos.




\_\_\_\_\_ i \_\_\_\_\_

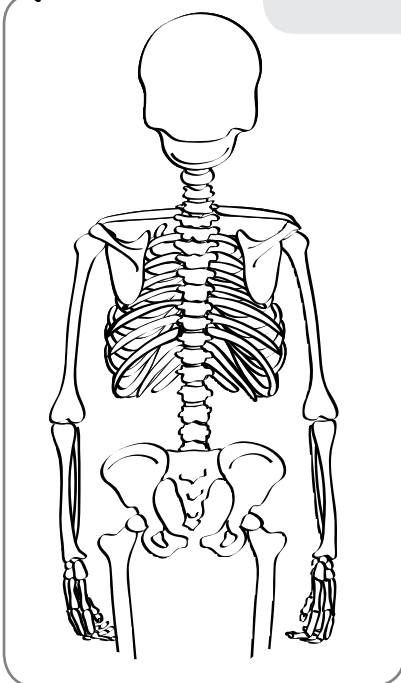
\_\_\_\_\_

\_\_\_\_\_ i \_\_\_\_\_

\_\_\_\_\_



La columna vertebral està a l'esquena; és com un tub format per ossos col·locats els uns sobre els altres.



3 Pinta la columna vertebral i respon.

• Com s'anomena l'os amb què s'unix la columna vertebral per dalt? Marca-ho.

Crani

Tíbia

Colze

• La columna vertebral, permet que l'esquena es doblegue? Per què? Marca-ho.

– No, perquè està formada per un únic os rígid.

– Sí, perquè està formada per uns quants ossos que s'articulen entre si.