

# CLASSE DE 2<sup>o</sup>A






## ESTRELLA


- Cuaderno de lengua pág 34, 35, 36
- Dictado. De la pág 31 desde " Otra de las propuestas.... hasta cuatro kilómetros "
- Quadern de llengua pàg 34, 35, 36.
- Dictat pàg 30 des de " Si estàs.... fins posta de sol.
- De l'arxiu " \*redacció (1). \*jpg, redactar una història. Recordar-vos d'utilitzar el punt i les majúscules.
- Cuaderno de matemáticas pág 28, 29, 30 31. Para los que no tengan el cuadernillo adjunto los ficheros con las imágenes.
- Ciències de la naturalesa. Adjunt arxiu amb imatges.






10 Colorea la escultura de la plaza según el código.


-  prisma
-  pirámide
-  cilindro
-  cono
-  esfera



11 Por las calles de la ciudad hay más esculturas. Cuenta y completa.




Hay  cubos.



Hay  pirámides.

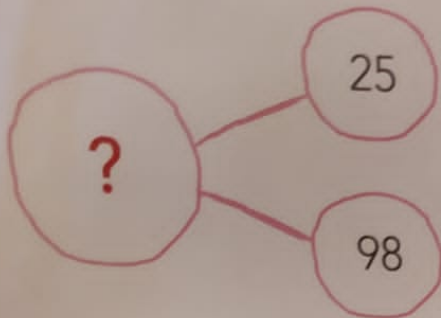


Hay  prismas.



Hay  conos.


**12** Patson ha descartado 25 pistas porque eran falsas. Si le quedan 98, ¿cuántas tenía al principio?



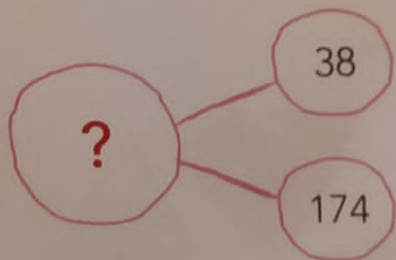
Ha descartado  pistas.

Le quedan  pistas.

► Tenía  pistas al principio.




**13** Catvil se ha llevado 38 anillos de diamantes de la joyería. Si quedan 174, ¿cuántos anillos había al principio?



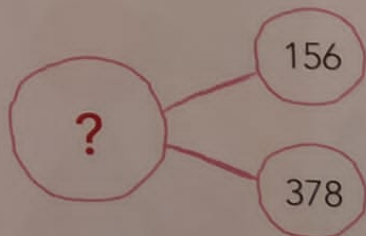
Se ha llevado  anillos.

Quedan  anillos.

► Había  anillos al principio.



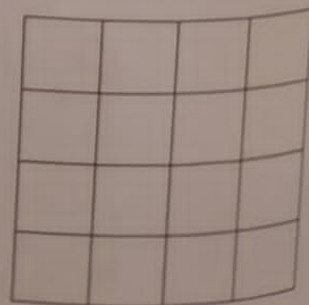
**14** Lady Tiguerza ha escondido 156 cuadros del museo. Si quedan 378, ¿cuántos cuadros había al principio?



Ha escondido  cuadros.

Quedan  cuadros.

► Había  cuadros al principio.



# diverZONA

Une las huellas con los resultados de la tabla del 4, de menor a mayor, para saber qué objeto ha robado Catvil. Rodéalo.



A trail of paw prints starts from the cat and leads to a grid of 20 paw prints, each containing a number. The numbers are: 4, 7, 11, 6, 8, 9, 3, 12, 16, 13, 10, 15, 20, 32, 28, 24, 30, 22, 36, 25, 41, 44, 40, 38, 80.

